

Задания для олимпиады по технологии
7 класс

Отметьте знаком «+» правильные ответы
или впишите правильный ответ

+ 1. Макароны при варке засыпают в кастрюлю с

1. холодной водой
2. теплой водой
3. горячей водой
4. кипящей водой

+ 2. Для максимального сохранения в овощах минеральных веществ при тепловой кулинарной обработке их следует

- 1 - - варить в воде
- 2 - - варить на пару
- 3 - - варить в кожуре
- 4 - - жарить
- 5 - - запекать

+ 3. Кто должен первым садиться за стол во время приема гостей? хозяин

+ 4. Перед началом обеда салфетку на колени кладут

- 1 - - полностью развернутой
- 2 - - сложенной по диагонали
- 3 - - сложенной вдвое с уравненными краями
- 4 - - сложенной вдвое с верхней частью короче нижней
- 5 - - сложенной вдвое с верхней частью длиннее нижней

5. Назовите волокно, которое имеет белый или слегка кремовый цвет, на оборванном конце образуется ватка, горит желтым пламенем и сгорает полностью, образуя серый пепел, ощущается запах жженой бумаги. Это хлопок

+ 6. Сырьем для производства тканей из натуральных волокон служат

- 1 - - шерсть животных
- 2 - - лен
- 3 - - уголь
- 4 - - древесина
- 5 - - коконы шелкопряда

+ 7. Швейная машина плохо продвигает ткань, если

- 1 - - сильно загрязнена зубчатая рейка
- 2 - - слишком слабый прижим ткани
- 3 - - слишком сильный прижим ткани
- 4 - - регулятор длины стежка установлен в нулевое положение
- 5 - - отключен механизм двигателя ткани

8. Если в швейной машине погнулась игла, то может произойти

- 1 - - пропуск стежков в строчке
- 2 - - петляние верхней нити
- 3 - - обрыв верхней нити
- 4 - - обрыв нижней нити
- 5 - - поломка иглы
- 6 - - стягивание ткани в строчке

9. Определите по рисунку вид ручного шва *козлик*



10. Ритмически повторяющийся элемент или несколько элементов, из которых складывается орнамент

- 1 - - мотив
- 2 - - раппорт
- 3 - - узор
- 4 - - эскиз
- 5 - - рисунок

11. Изображенное на рисунке изделие из китового уса или проволоки, надеваемое под юбку для увеличения ее объема, называется

- 1 - - турниор
- 2 - - кринолин
- 3 - - корсет
- 4 - - панталоны



12. Установите соответствие между рисунками фартуков и их выкройками



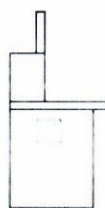
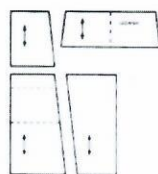
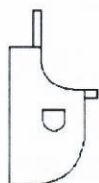
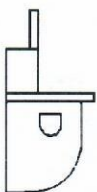
1 ↗

2

3

4

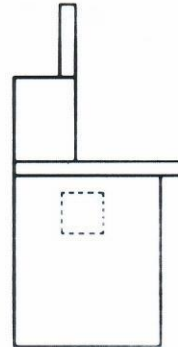
5



Ответ: 1-...А... 2-...Д... 3-...Б... 4-...В... 5-...Г...

13. Внесите изменения в чертеж основы фартука по описанию его модели.

Описание модели: фартук с отрезным нагрудником, притачным поясом и бретелями. Верхние срезы нагрудника и единственного кармана, расположенного посередине нижней части фартука, имеют V-образную форму.



14. Влажно-тепловая обработка конца вытачки называется

1. разутюжить
2. заутюжить
3. сутюжить
4. проутюжить
5. приутюжить

15. Перечислите операции, которые необходимо выполнить при подготовке ткани к раскрою

1. *определить направление волокон*
2. *определить порядок тканей*
3. *определить направление долевой нити*
4. *выровнять срезы тканей*
5.
6.

16. Напряжение электрической сети переменного тока измеряют в

1. амперах
2. фарадах
3. герцах
4. вольтах
5. ваттах

17. Украшение из ткани в верхней части дверных и оконных проемов называется

- 1 - - штора
- 2 - - карниз
- 3 - - ламбрекен
- 4 - - занавеска
- 5 - - ширма

18. На расширении рынка сбыта продукции сказываются такие факторы производства, как:

- 1 - - улучшение организации производства;
- 2 - - повышение уровня автоматизации;
- 3 - - улучшение качества продукции;
- 4 - - уменьшение цены;

5 - - повышение квалификации работников.

+ 19. От чего в большей мере зависит успешность деловой карьеры:

1 - от уровня образования;

2 - от устремленности;

3 - от совпадения профессионально важных качеств личности требованиям профессии;

4 - от случая.

+ 20. После пересаживания комнатное растение следует поставить.

1 - - на подоконник на яркое солнце

2 - - на пол в холодном и влажном помещении

3 - - в теплое слегка затененное место

4 - - на балкон на яркое солнце